

ВСЕРОССИЙСКАЯ ОЛИМПИАДА ШКОЛЬНИКОВ

ПО ТЕХНОЛОГИИ

(девочки)

МУНИЦИПАЛЬНЫЙ ЭТАП

Рубцовский район

5 декабря 2020 Г.

ОЛИМПИАДНАЯ РАБОТА

Ученица 7 класса

МБОУ «Бабковская СОШ»

(наименование образовательной организации)

Авдеевой

Дарини

Алексеевны

(Ф.И.О.)

Учитель: Покоридкина А.О.

№ задания	1	2	3	4	5	6	7	8	9	10	11	12	13	14	15	16	итого
баллы	1	0	1	1	0	1	0	1	1	1	0	1	1	0	0	5	14

Члены жюри:

Четырбок Н. В. - МБОУ «Безрукавская СОШ»

Сасова О. А. - МБОУ «Половинкинская СОШ»

Тестовые задания для муниципального этапа Всероссийской олимпиады школьников по  
технологии 2020/2021 учебного года  
Номинация «Культура дома, дизайн и технологии»  
7-8 класс.

Максимальное количество баллов - 25

**1. Образовательная область «Технология» изучает**

(отметьте знаком + правильный ответ)

- а) технологии автостроения
- б) технологии медицинского приборостроения
- в) технологии самолетостроения
- + г) технологии преобразования материалов, энергии и информации

15.

**2. Какие волокна имеют наибольшую гигроскопичность:**

(отметьте знаком + правильный ответ)

- + а) лен;
- б) лавсан;
- в) шерсть;
- г) шелк.

05.

**3. Клетки живого организма строятся из:**

(отметьте знаком + правильный ответ)

- а) аминокислот;
- б) солей;
- в) витаминов;
- + г) белков;
- д) жиров.

15.

**4. К сфере деятельности «человек-человек» можно отнести следующие профессии:**

(отметьте знаком + правильные ответы)

- а) автомеханик;
- + б) учитель;
- в) ветеринар;
- + г) машинист поезда;
- + д) стюардесса;
- е) лесник.

15.

**5. Родиной кофе являются:**

(отметьте знаком + правильный ответ)

- + а) Турция;
- б) Монголия;
- в) Эфиопия;
- г) Китай;
- д) Япония.

05.

**6. По конструкции юбки бывают:**

(отметьте знаком + правильные ответы)

- + а) конические
- б) косые;
- в) диагональные;
- + г) прямые.

15.

**7. Какие изображения выявляют видимые части формы детали:**

(отметьте знаком + правильный ответ)

- + а) разрезы;

05.

- б) виды;
- в) сечения;
- + г) изометрическая проекция;
- д) схемы.

0,5.

**8. К соединительным швам относятся:**

(отметьте знаком + правильный ответ)

- + а) стачной шов;
- б) шов вподгибку;
- в) расстрочной шов;
- г) окантовочный шов.

1,5.

**9. Для построения чертежа конической юбки необходимы следующие мерки:**

(отметьте знаком + правильные ответы)

- а) обхват плеча Оп;
- б) полуобхват груди Сг I
- + в) полуобхват талии Ст
- + г) полуобхват бедер Сб

1,5.

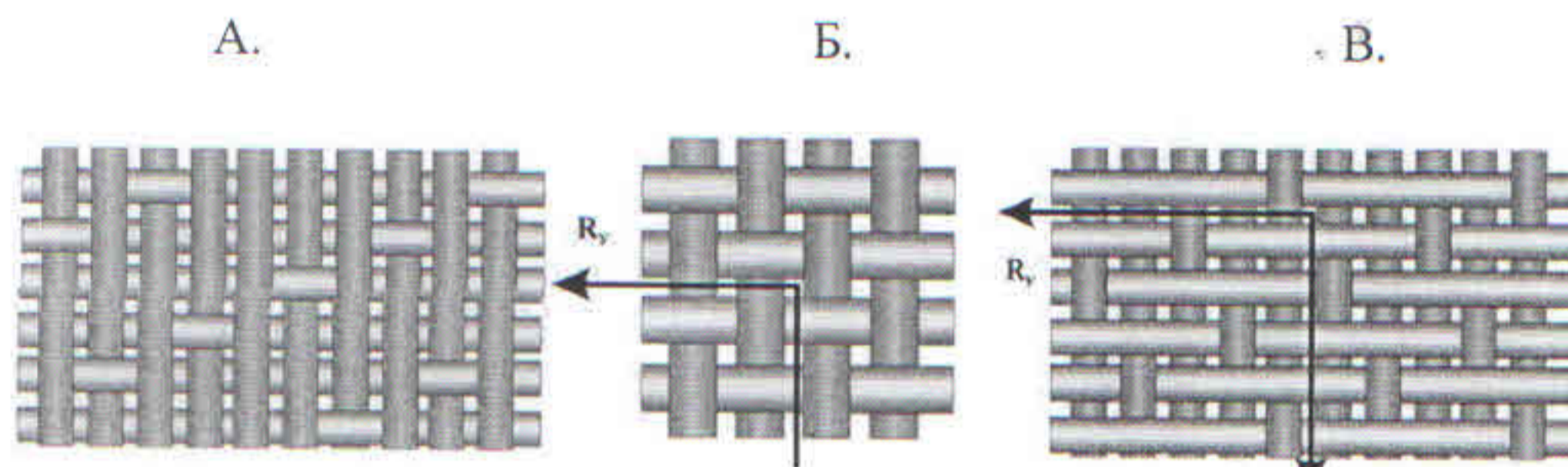
**10. Какой линией чертежа по ГОСТу показывают линию сгиба:**

(отметьте знаком + правильный ответ)

- а) сплошная волнистая;
- б) штрихпунктирная основная;
- в) штрихпунктирная с двумя точками;
- г) штриховая;
- + в) сплошная тонкая.

1,5.

**11. На каком рисунке изображено полотняное переплетение?**



0,5.

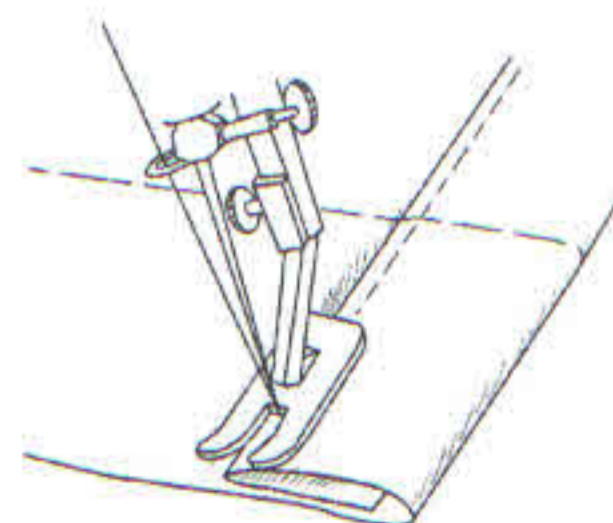
Ответ: В

**12. Какой машинный шов показан на картинке?**

- + А. Шов в подгибку с закрытым срезом
- Б. Шов в подгибку с открытым срезом

1,5.

Ответ: Шов в подгибку с закрытым срезом (А)



**13. Напишите условное обозначение мерки.**

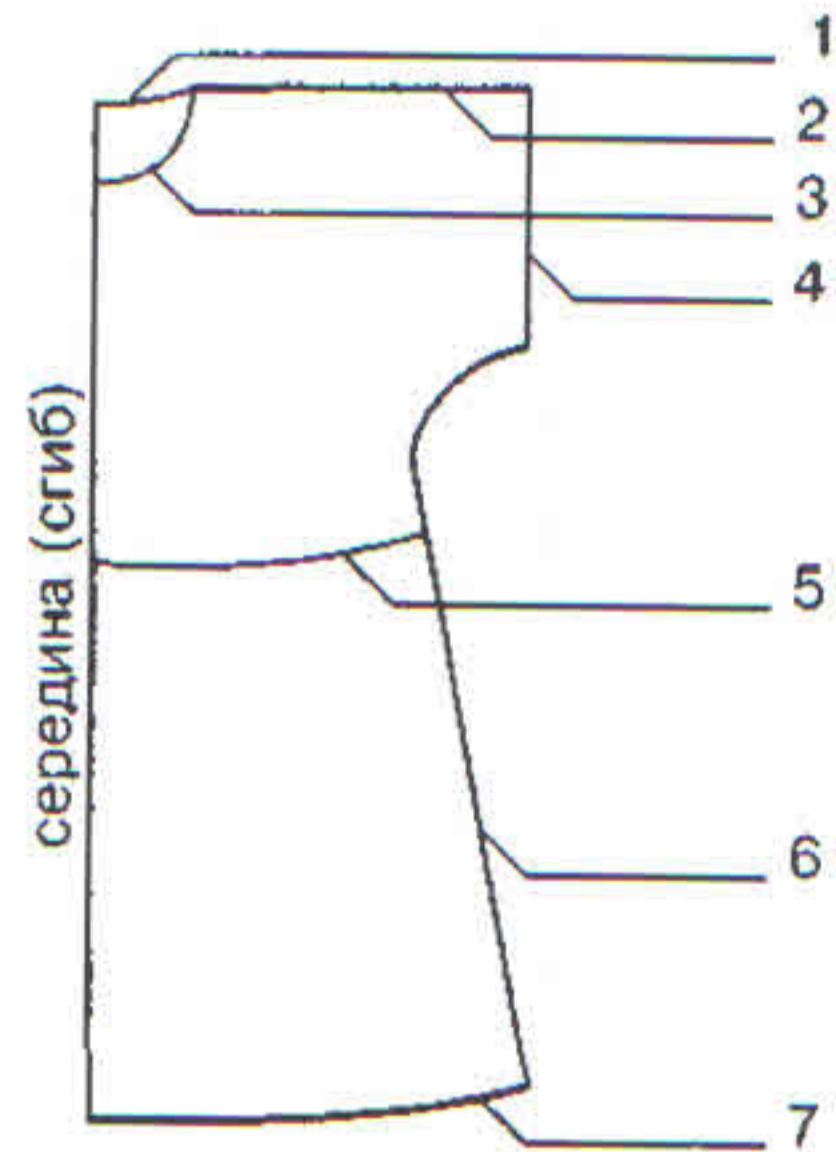
1. Полуобхват бедер —.....
2. Длина изделия —.....
3. Ширина груди —.....
4. Полуобхват шеи —.....

1,5.

Ответ: 1. Сб 2. Ди 3. Шгг 4. Сш

14. Дайте название конструктивным линиям и срезам плечевого изделия.

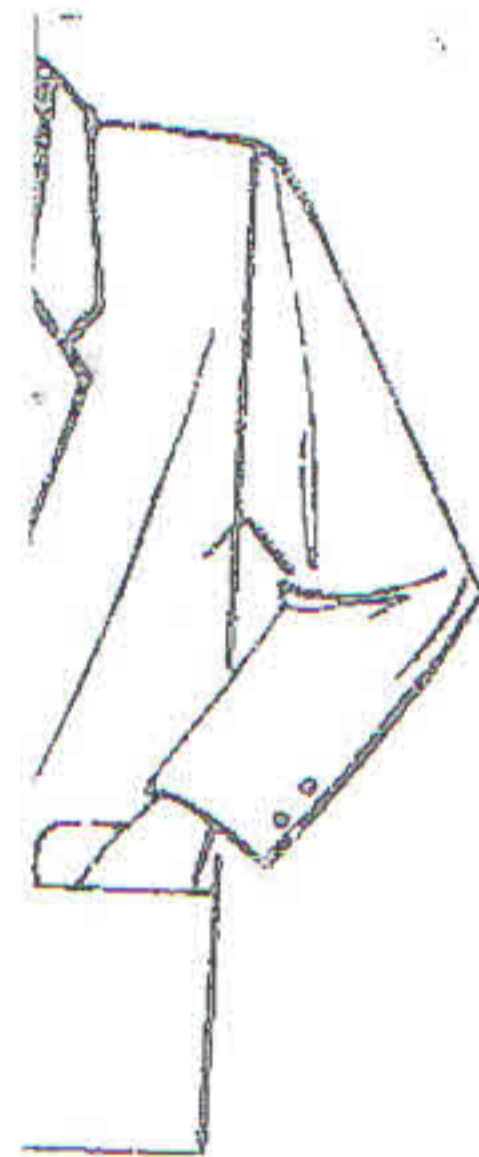
Ответ: 1. Торшюрная  
2. Плечевая  
3. Тайпез  
4. рукав  
5. Пелч  
6. Край  
7. Подол



15. Какой покрой рукава показан на картинке?

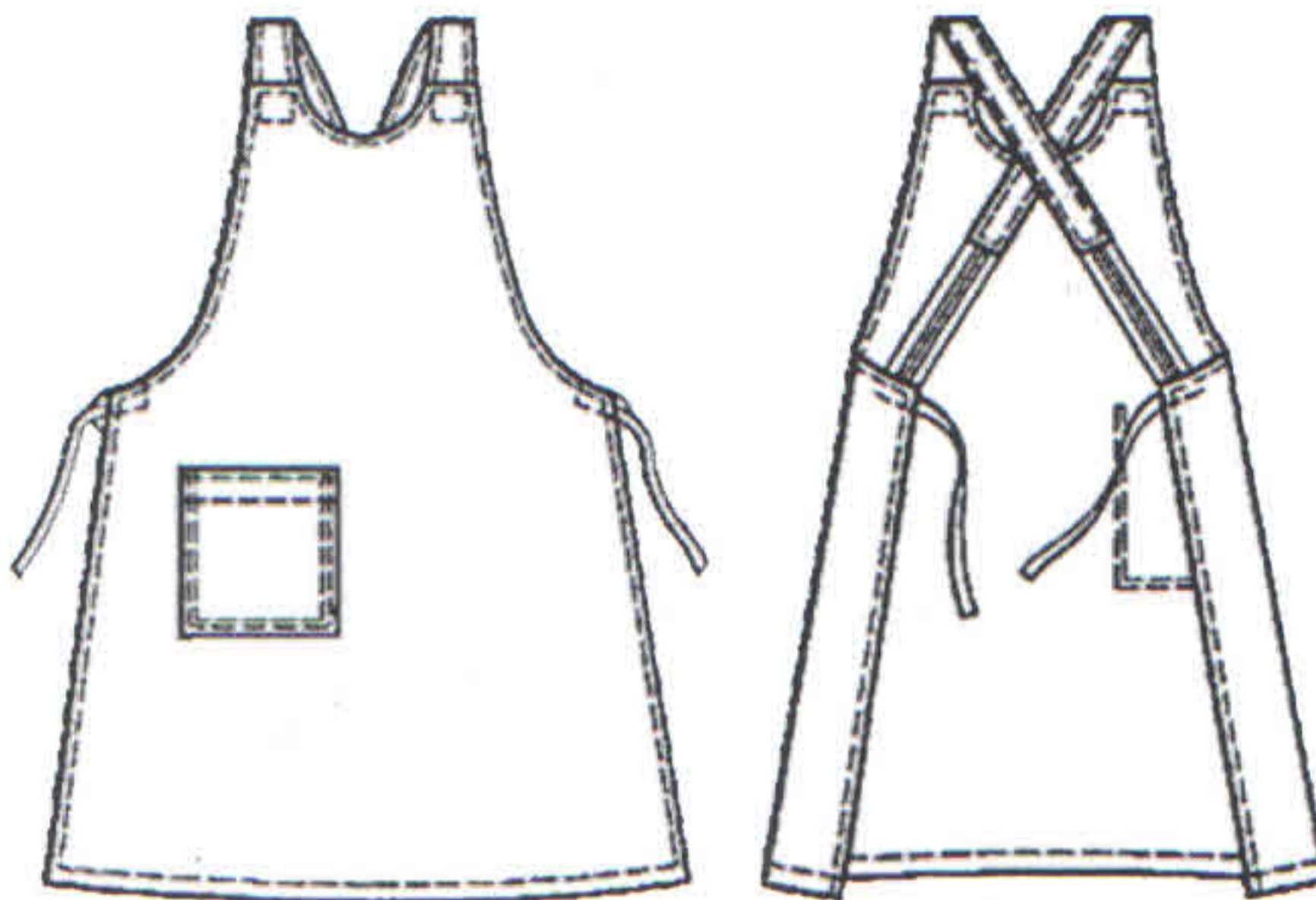
- А. Цельнокроенный
- Б. Втачной
- В. Реглан

Ответ: А




**16. Творческое задание**

Вам предложена модель детского фартука для рукоделия (виды спереди и сзади).  
 Выполните следующие задания:



№	Описание заданий	Выполнение заданий	балл	оценка
1	Выполните детали кроя этого изделия		3	25

Муниципальный этап Всероссийской олимпиады школьников по технологии 2020/2021 учебного года  
 Номинация «Культура дома, дизайн и технологии»  
 7-8 класс.

2	Запишите названия деталей и их количество	Пояс-завязка, карман, основа, лямки.	1	05
3	Сделайте описание модели по следующему плану:	наименование и назначение изделия <u>Заручник детский</u> <u>Для рукоделия</u> _____ силуэт, покрой <u>Цельнокроеный</u> _____ вид застёжки, конструктивные особенности <u>На завязке, 1 карман на боку,</u> <u>сзади на спине лямки и пояс накрест.</u>	2	15
4	Какими свойствами должен обладать материал, из которого его можно сшить? Предложите такие материалы	<u>Трикотажность.</u> <u>Хлопок.</u> _____ _____	1	15
5	Перечислите инструменты и оборудование, необходимые для изготовления данного изделия	<u>Игла, ножницы, нить, нитки, мел,</u> <u>ткань.</u> _____ _____	1	05
6	Предложите элементы декора для этой модели. Выполните эскиз модели с декором	Декор <u>Окантовка</u> 	2	15