

ВСЕРОССИЙСКАЯ ОЛИМПИАДА ШКОЛЬНИКОВ

ПО ТЕХНОЛОГИИ

(девочки)

МУНИЦИПАЛЬНЫЙ ЭТАП

Рубцовский район

5 декабря 2020 Г.

ОЛИМПИАДНАЯ РАБОТА

Учени уч 8 класса

МБОУ «Безрукавская СОШ»

(наименование образовательной организации)

Бисошенитейн Татьяна Ивановна

(Ф.И.О.)

Учитель: Четырбок Надежда Викторовна

№ задания	1	2	3	4	5	6	7	8	9	10	11	12	13	14	15	16	итого
баллы	1	0	0,5	1	0,5	1	0,5	0,5	1	0	0	1	1	0	1	8	17

Члены жюри:

Четырбок Н. В. - МБОУ «Безрукавская СОШ»

Сасова О. А. - МБОУ «Половинкинская СОШ»

Муниципальный этап Всероссийской олимпиады школьников по технологии 2020/2021 учебного года
Номинация «Культура дома, дизайн и технологии»
7-8 класс.

Тестовые задания для муниципального этапа Всероссийской олимпиады школьников по
технологии 2020/2021 учебного года
Номинация «Культура дома, дизайн и технологии»
7-8 класс.

Максимальное количество баллов - 25

1. Образовательная область «Технология» изучает

(отметьте знаком + правильный ответ)

- а) технологии автостроения
- б) технологии медицинского приборостроения
- в) технологии самолетостроения
- + г) технологии преобразования материалов, энергии и информации

2. Какие волокна имеют наибольшую гигроскопичность:

(отметьте знаком + правильный ответ)

- + а) лен;
- б) лавсан;
- в) шерсть;
- г) шелк.

3. Клетки живого организма строятся из:

(отметьте знаком + правильный ответ)

- а) аминокислот;
- б) солей;
- + в) витаминов;
- + г) белков;
- + д) жиров.

4. К сфере деятельности «человек-человек» можно отнести следующие профессии:

(отметьте знаком + правильные ответы)

- а) автомеханик;
- + б) учитель;
- в) ветеринар;
- г) машинист поезда;
- + д) стюардесса;
- е) лесник.

5. Родиной кофе являются:

(отметьте знаком + правильный ответ)

- + а) Турция;
- б) Монголия;
- + в) Эфиопия;
- г) Китай;
- д) Япония.

6. По конструкции юбки бывают:

(отметьте знаком + правильные ответы)

- + а) конические
- б) косые;
- в) диагональные;
- + г) прямые.

7. Какие изображения выявляют видимые части формы детали:

(отметьте знаком + правильный ответ)

- + а) разрезы;

- + б) виды;
- в) сечения;
- г) изометрическая проекция;
- д) схемы.

8. К соединительным швам относятся:

(отметьте знаком + правильный ответ)

- + а) стачной шов;
- б) шов вподгибку;
- + в) расстрочной шов;
- г) окантовочный шов.

9. Для построения чертежа конической юбки необходимы следующие мерки:

(отметьте знаком + правильные ответы)

- а) обхват плеча Оп;
- б) полуобхват груди Сг I
- + в) полуобхват талии Ст
- + г) полуобхват бедер Сб

10. Какой линией чертежа по ГОСТу показывают линию сгиба:

(отметьте знаком + правильный ответ)


- а) сплошная волнистая;
- + б) штрихпунктирная основная;
- в) штрихпунктирная с двумя точками;
- г) штриховая;
- в) сплошная тонкая.

11. На каком рисунке изображено полотняное переплетение?

А.

Б.

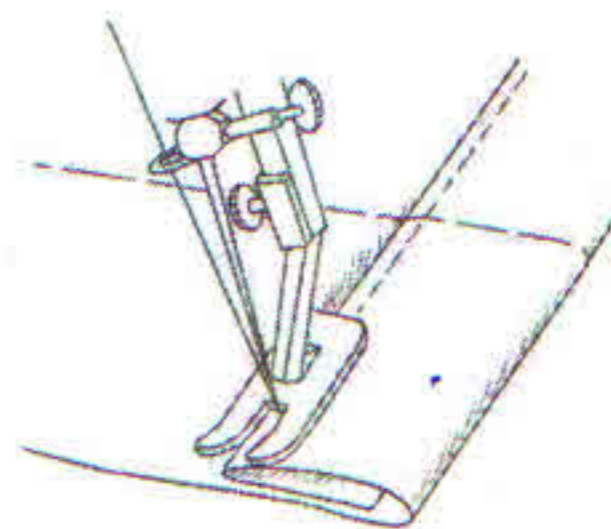
В.



Ответ: А

12. Какой машинный шов показан на картинке?

- А. Шов в подгибку с закрытым срезом
- Б. Шов в подгибку с открытым срезом



Ответ: А

13. Напишите условное обозначение мерки.

- 1. Полуобхват бедер — *Сб*.....
- 2. Длина изделия — *Диз*.....
- 3. Ширина груди — *Шг*.....
- 4. Полуобхват шеи — *Пш*.....

Ответ: _____

14. Дайте название конструктивным линиям
и срезам плечевого изделия.

Ответ: 1.

2. Плечевая линия

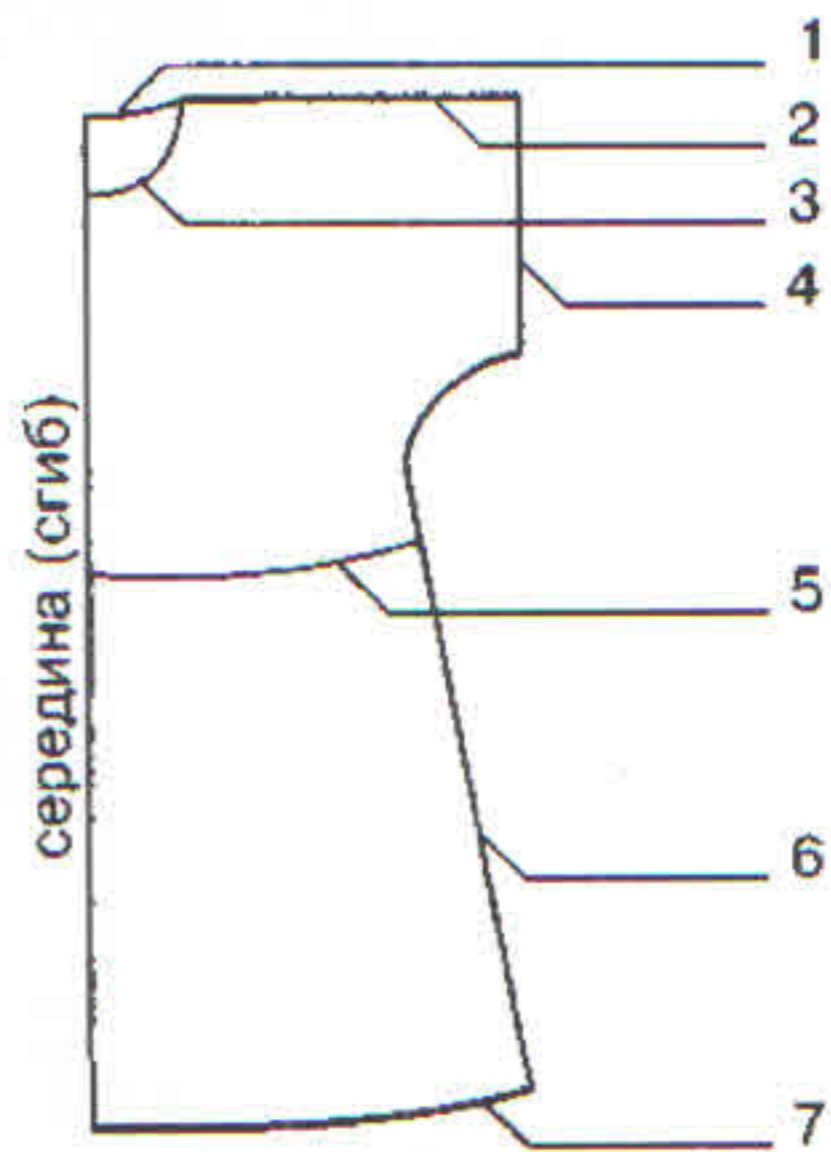
3. Горловина

4. Рукав

5. Ширина

6. Жилка

7.



15. Какой покрой рукава показан на картинке?

А. Цельнокроенный

Б. Втачной

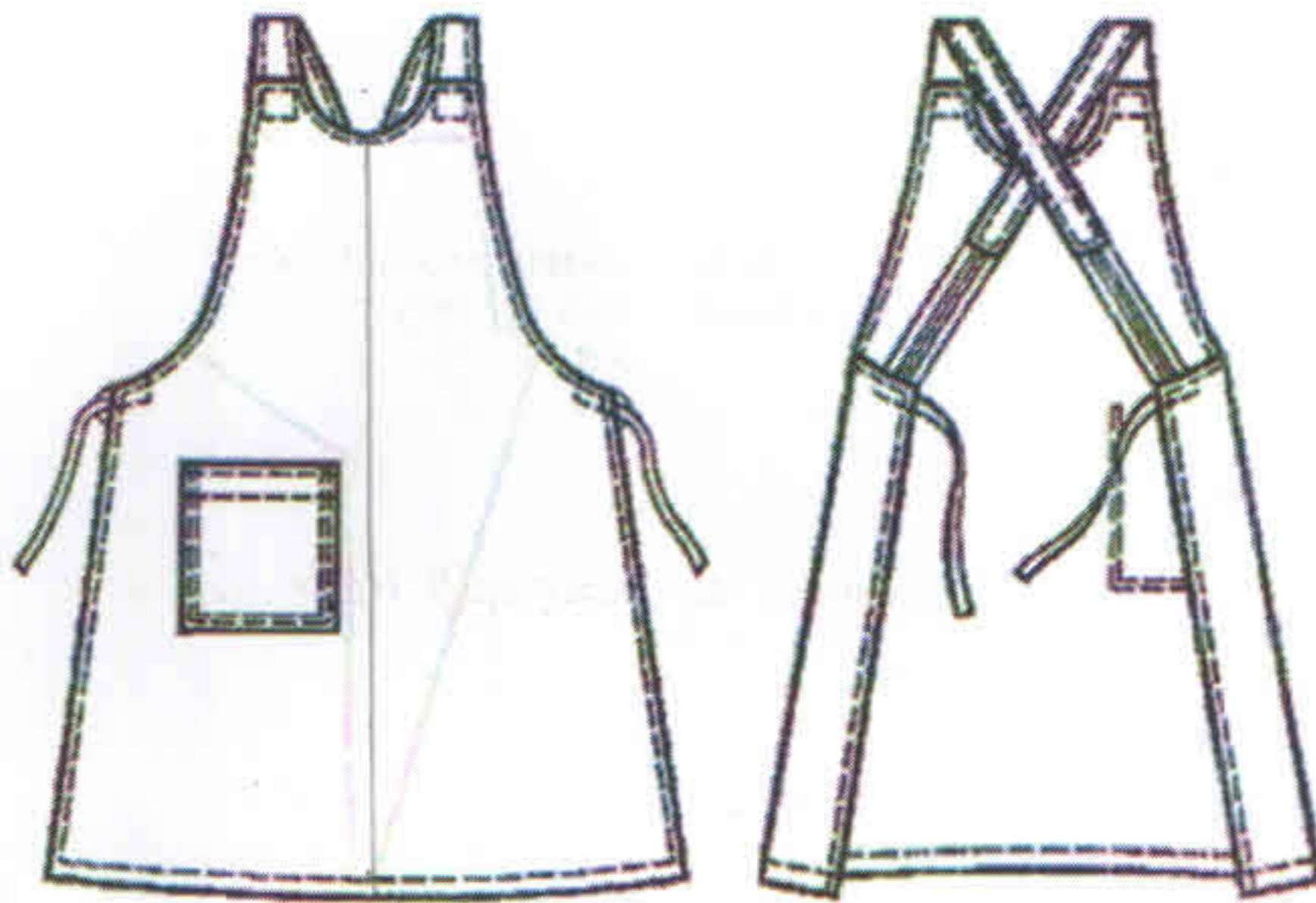
В. Реглан

Ответ: Б




16. Творческое задание

Вам предложена модель детского фартука для рукоделия (виды спереди и сзади).
 Выполните следующие задания:



№	Описание заданий	Выполнение заданий	балл	оценка
1	Выполните детали кроя этого изделия.		3	3

Муниципальный этап Всероссийской олимпиады школьников по технологии 2020/2021 учебного года
 Номинация «Культура дома, дизайн и технологии»
 7-8 класс.

2	Запишите названия деталей и их количество		1	0
3	Сделайте описание модели по следующему плану:	<p>наименование и назначение изделия <i>Фартук детский для рукоделия.</i></p> <p>силуэт, покрой <i>Прямой</i></p> <p>вид застёжки, конструктивные особенности</p>	2	1
4	Какими свойствами должен обладать материал, из которого его можно сшить? Предложите такие материалы	<p><i>Свойства: прочность</i></p> <p><i>Материал: хлопчатобумажная ткань.</i></p>	1	1
5	Перечислите инструменты и оборудование, необходимые для изготовления данного изделия	<p><i>Ножницы; швейная машинка; ткань; нитки; шило; карандаш (шар).</i></p>	1	1
6	Предложите элементы декора для этой модели. Выполните эскиз модели с декором	<p>Декор <u><i>второй карман</i></u></p> 	2	2

Всероссийская олимпиада школьников по Технологии
Алтайский край
Муниципальный этап
2020-2021 г.г.

КУЛЬТУРА ДОМА, ДИЗАЙН И ТЕХНОЛОГИИ

**Таблица результатов оценивания теоретического тура
(7-8 класс)**

Номер задания	Максимальное количество баллов	Полученные баллы
1	1	1
2	1	0
3	1	0,5
4	1	1
5	1	0,5
6	1	1
7	1	0,5
8	1	0,5
9	1	1
10	1	0
11	1	0
12	1	1
13	1	1
14	1	0
15	1	1
16	10	8
Общий балл	25	17

Председатель жюри: _____ (*Четвербов А. В.*)

Члены жюри:

